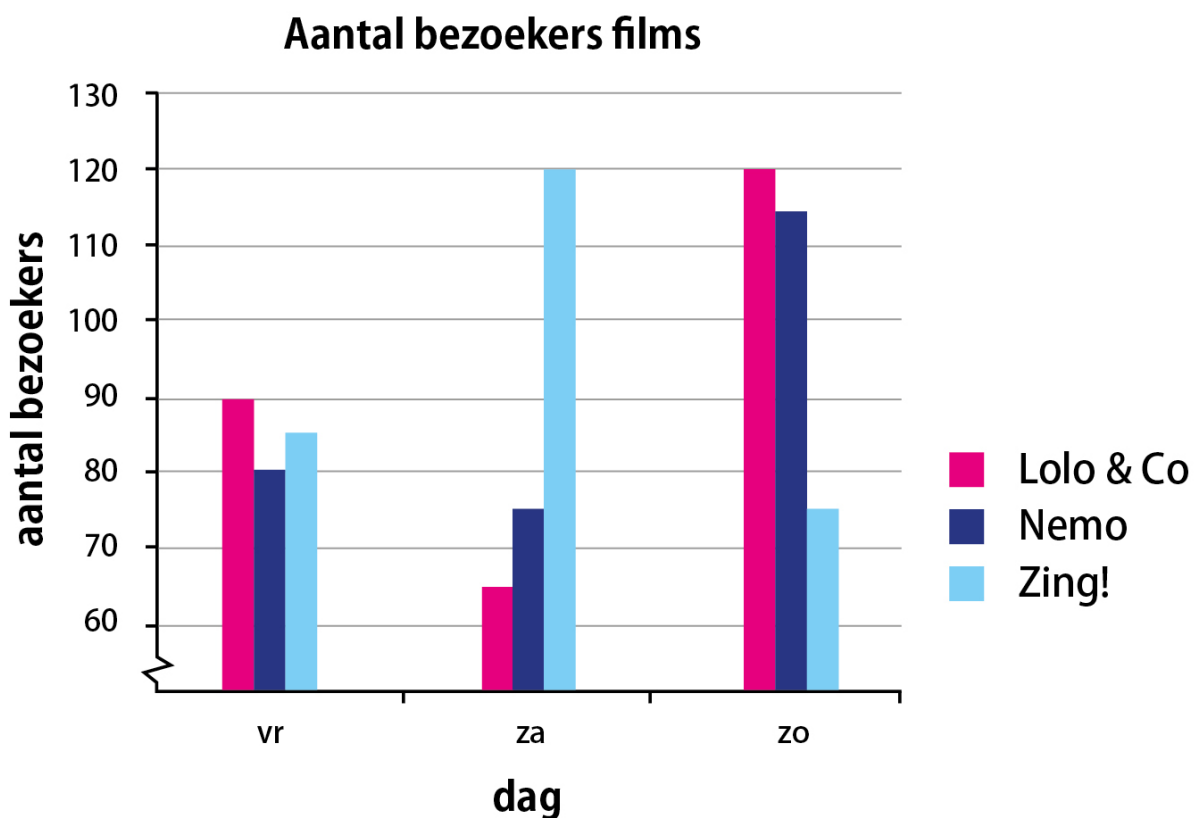


Je ziet hieronder het aantal bezoekers van de drie meest bezochte films in bioscoop Zien op vrijdag, zaterdag en zondag.



Welke film had op deze dagen in totaal de meeste bezoekers?

- ☐ Lolo & Co
- ☐ Nemo
- ☐ Zing!



Milans ouders hebben een kaars van 15 cm in de woonkamer staan.

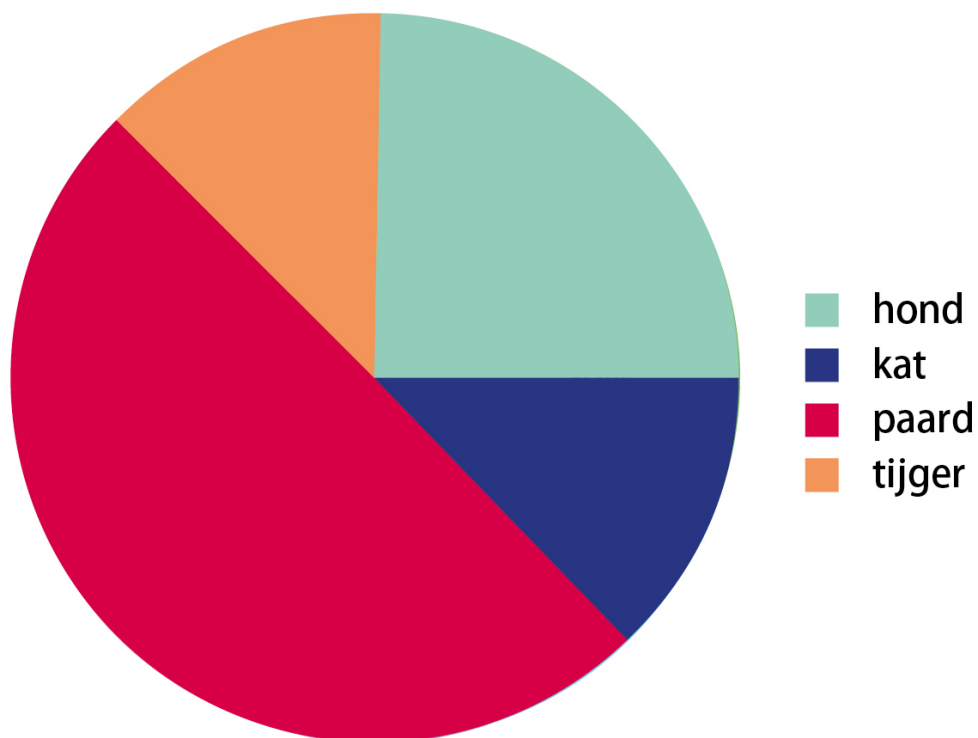
Na elk uur branden wordt de kaars 1,5 cm korter.

Hoeveel centimeter is de kaars na 3 uur branden?



Juf Loes vraagt aan de leerlingen in haar klas wat hun favoriete dier is. Je ziet het resultaat hieronder.

Favoriete dier




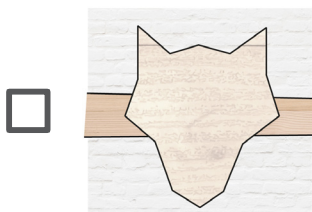
Wat is het favoriete dier van de meeste leerlingen van juf Loes?


- ☐ een hond
- ☐ een kat
- ☐ een paard
- ☐ een tijger

Gwen hangt haar jas aan de kapstok. De figuren van de kapstok hebben een vaste volgorde.



Aan welk figuur hangt de jas van Gwen?





Hoeveel stippen heeft het volgende figuur in de rij?

- ☐ 12
- ☐ 13
- ☐ 14
- ☐ 15
- ☐ 16

Amira is 9 jaar. Ze gaat een dagje naar pretpark Funland met haar vader, haar zus van 14 jaar en haar broertje van 7 jaar.

Entreeprijzen pretpark Funland	
Kinderen 0 - 4 jaar	gratis
Kinderen 5 - 12 jaar	€ 15,50
Kinderen 13 - 18 jaar	€ 17,00
Volwassenen	€ 19,00

Hoeveel moeten zij in totaal betalen?

- ☐ € 50,00
- ☐ € 51,50
- ☐ € 65,50
- ☐ € 67.00